

8.05 2 КЛАСС


МАТЕМАТИКА

ЧАС. МИНУТА. ЗАКРЕПЛЕНИЕ.


ОПРЕДЕЛИ, КОТОРЫЙ ЧАС



12 : 15



3 : 35



5 : 45



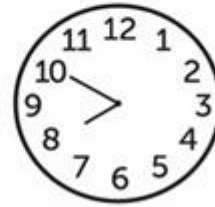
11 : 30




1 : 25



9 : 10



8 : 50



7 : 25

ЗАДАНИЕ УСТНО

ПОДУМАЙ, ГДЕ БУДУТ НАХОДИТЬСЯ СТРЕЛКИ НА ЦИФЕРБЛАТЕ ЧАСОВ?



03:30



10:30



07:30



05:30



09:30



12:30

Какое время будут показывать часы через 30 минут?



4 часа 30 минут



7 часов 30 минут



2 часа 40 минут

ЗАДАНИЕ

**С.76-77 №1-2(УСТНО),
№3(ЗАПИШИ ТОЛЬКО ОТВЕТЫ)
№7(УСТНО),
№8(ПИСЬМЕННО)**

ПОСТАВЬ СЕБЕ ОЦЕНКУ ЗА УРОК,
ВЫБЕРИ СМАЙЛИК

