



7.05.20 2 класс


Час, минута.

*Определение
времени по часам.*



*Девиз урока:
«Время не стоит
на месте, нас зовет
с собою вместе!»*

УСТНЫЙ СЧЁТ

1. Назови наибольшее двузначное число.
 2. Назови наименьшее двузначное число.
 3. Назови соседей числа 40.
 4. Сколько десятков и единиц в числе 37?
 5. Сколько сантиметров в 4 дм?
 6. Назови наибольшее из чисел: 70 и 50.
 7. Чему равно значение, если первое слагаемое 20, второе слагаемое 60?
 8. Чему равно значение, если уменьшаемое 80, вычитаемое 60?
 9. К какому числу нужно прибавить 4, чтобы получить 44?
 10. Из какого числа вычесть 0, чтобы получить 60?
 11. В столовой было 9 литров молока, разлили в стаканы 6 литров. Сколько литров молока осталось?
 12. На даче собрали 10кг огурцов и 10 кг помидоров. Сколько всего кг овощей собрали на даче?
- 

ПРОВЕРЬ СЕБЯ

1. 99
2. 10
3. 39 И 41
4. 3 ДЕСЯТКА 7 ЕДИНИЦ
5. 40 СМ
6. 70
7. 80
8. 20
9. 40
10. 60
11. 3 л
12. 20 кг



*Прочитай числовой
ряд:*

12, 22, 32, 42, 52

*Увеличь каждое
число на 3*

Проверь себя



12, 22, 32, 42, 52


15, 25, 35, 45, 55



Точно мы должны ходить,
Можем рано разбудить.
Бить умеем, но не вас,
Отбиваем каждый час.
Громко, весело мы бьем: бим-бом,
бим-бом!

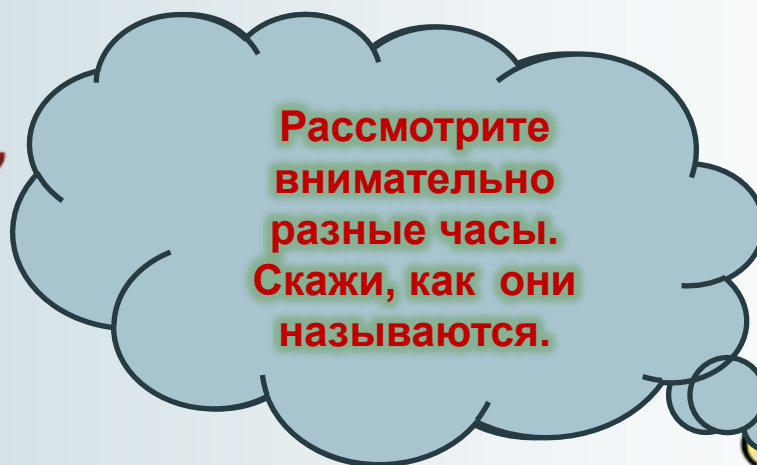
Часы





Часы бывают
разные. Сначала
появились
солнечные часы,
потом водяные,
песочные.



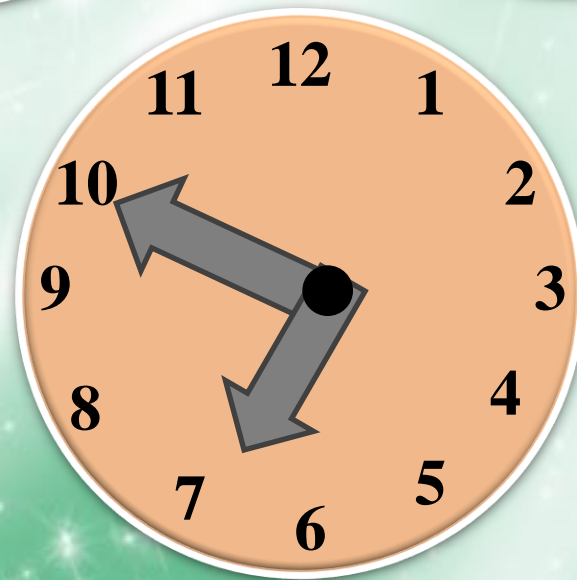


**Рассмотрите
внимательно
разные часы.
Скажи, как они
называются.**

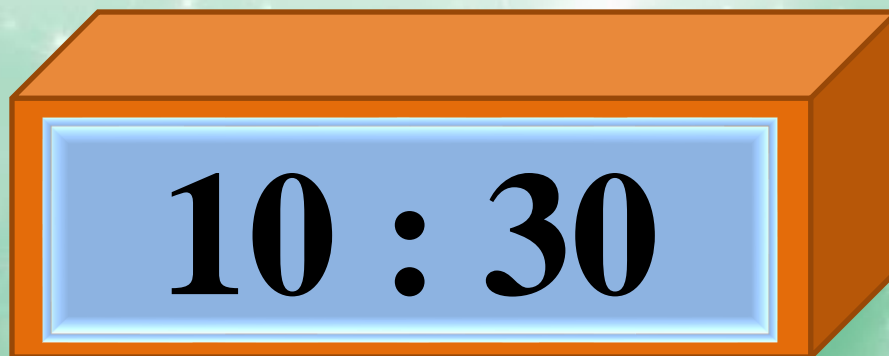





У часов есть короткая стрелка и длинная. Короткая показывает часы, а длинная – минуты.



Определи время по часам.



**Найдите одинаковое время на электронных
и механических часах.**



Задание

учебник с. 74-правило выучить наизусть !

№ 1-2,4(устно), № 3,6,7(письменно)



Молодцы!

