




6.05.20 2 класс

«Умножение чисел на 0 и на 1.»



*Запишите произведение
в виде суммы, выполните
сложение*

$$5 \bullet 4$$

$$15 \bullet 2$$

$$25 \bullet 2$$

$$7 \bullet 3$$

$$30 \bullet 3$$

$$8 \bullet 4$$



**Распределите в 2 столбика и
решите.**

$$1 \bullet 3$$

$$0 \bullet 7$$

$$0 \bullet 10$$

$$1 \bullet 9$$





1 • 3

0 • 7

1 • 9

0 • 10

A decorative vertical border on the left side of the slide, featuring stylized yellow and blue floral motifs with gold accents.
$$1 \cdot a = a$$
$$0 \cdot a = 0$$



**При умножении любого
числа на 1 получается
то число, которое
умножали.**

$$a \cdot 1 = a$$

**При умножении любого
числа на 0
получается нуль.**

$$a \cdot 0 = 0$$

Запиши решение задач:






$$0+0+0+0=0 \quad 0 \cdot 4 = 0$$









**У 5 котят по 1 ленточке.
Сколько всего ленточек?**





**У 9 слонов по одному
хоботу. Сколько всего
хоботов?**





**У 12 школьников по
одному учебнику.
Сколько всего
учебников?**





Проверка:

1) $1 \cdot 5 = 5$ (л.)

2) $1 \cdot 9 = 9$ (х.)

3) $1 \cdot 12 = 12$ (уч.)



Закрепи знания:

Учебник- с. 72-73 № 1-4



СПАСИБО
ЗА
УРОК!!!