

27.04 20 2класс

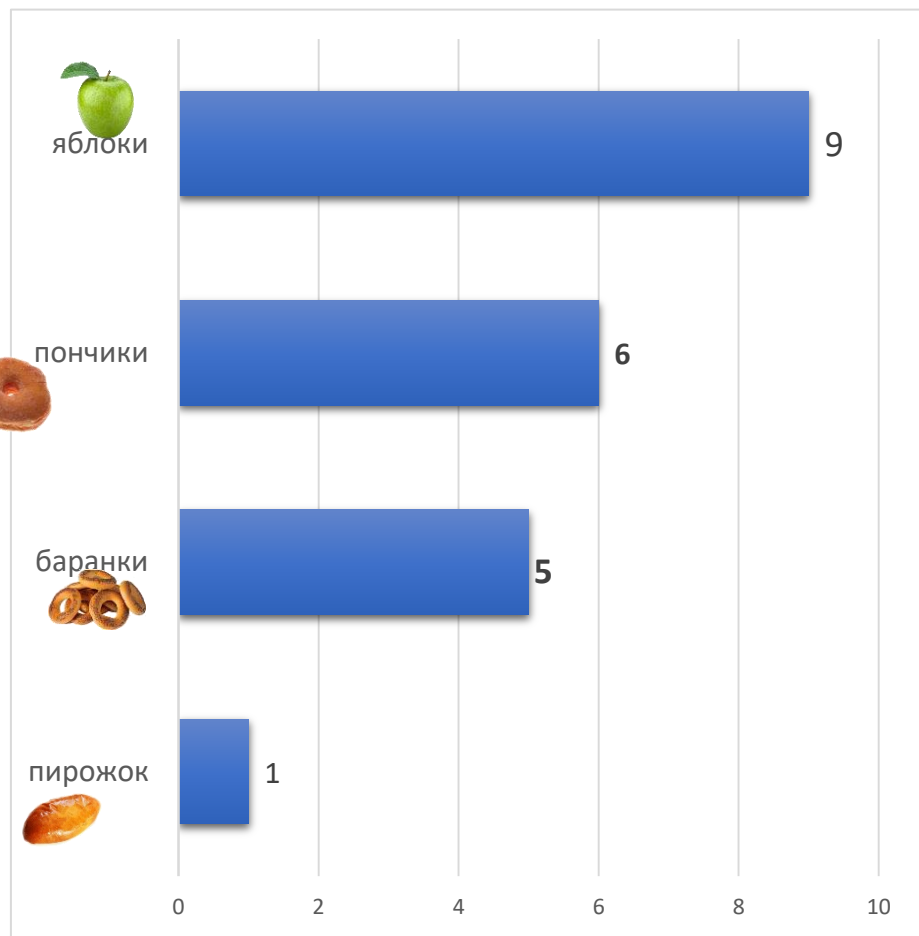
Математика





Периметр прямоугольника.

Закрепление.

- **1. Начерти прямоугольник** со сторонами 3 см и 5 см. Обозначь углы. Найди его периметр(P). Рядом **начерти квадрат**, периметр которого равен периметру прямоугольника. Как узнать, чему равна сторона квадрата? Обозначь углы квадрата буквами.
- **2. Запиши выражение и вычисли его значение.**
 - 1) К частному чисел 18 и 2 прибавить 53.
 - 2) Из 60 вычесть произведение чисел 4 и 3.

3.Используя данные диаграммы, ответь на вопросы.
 Сел Мишка на пенёк, съел пирожок... А еще баранки,
 пончики и яблоки. Запиши под цифрами только решение.



Вопросы:	Решения/ответы:
1.Сколько хлебобулочных изделий съел Мишка?	1.
2.На сколько хлебобулочных изделий Мишка съел меньше, чем яблок?	2.
3.Сколько пончиков и пирожков съел Мишка?	3.
4.Сколько баранок и яблок съел Мишка?	4.
5.На сколько больше яблок съел Мишка, чем баранок и пирожков вместе?	5.
6  -  +  +  = ?	6.