

14.04 2 кл

Урок математики



Девиз урока :

**«Не будь тороплив, а
будь терпелив.»**



Девиз урока :

**«Не будь тороплив,
а будь терпелив.»**



Подумай и запиши:

**1. Установите
закономерность и
продолжите ряд:**

99 88 77...



Считаем устно

$33+4=$

$39+40=$

$76-30=$

$62+30=$

$21+9=$

$57-3=$

$44+6=$

$74+6=$

$92+8=$



Задачи

Прочитай условие задачи и объясни, что узнаешь выполнив действия:

В осеннем букете 25 кленовых листьев, 13-дубовых и 10-берёзовых

$$25+13$$

$$13+10$$

$$25-10$$

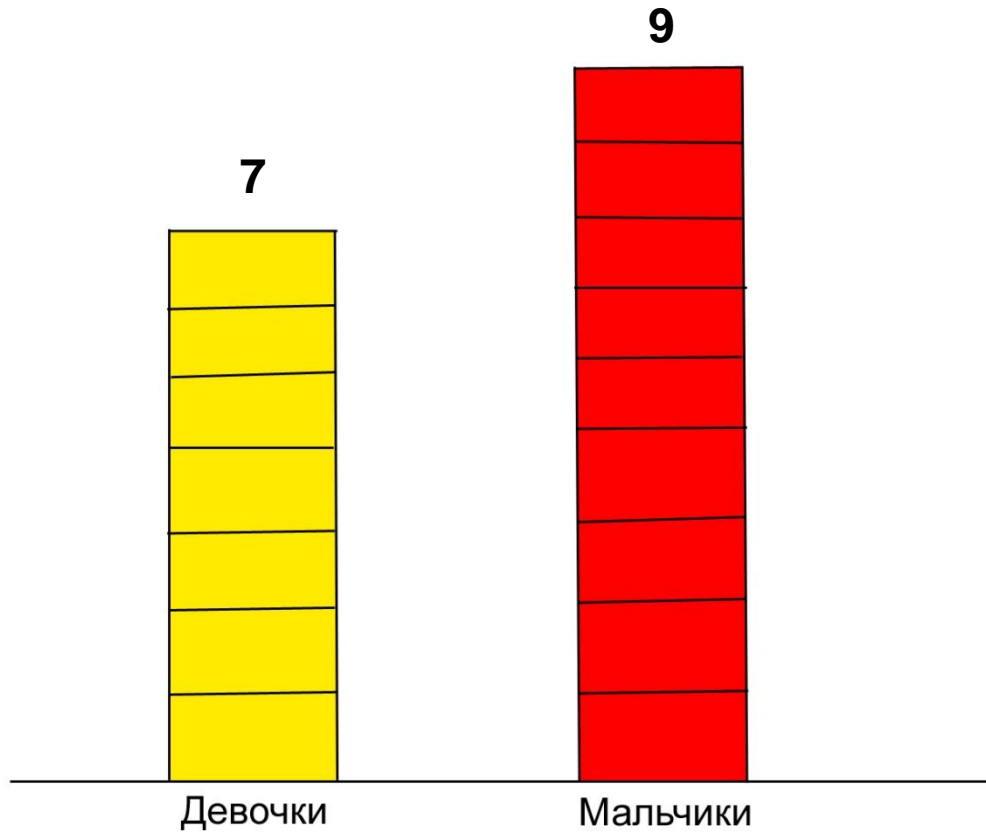
$$25+10+13$$



Вспомни:

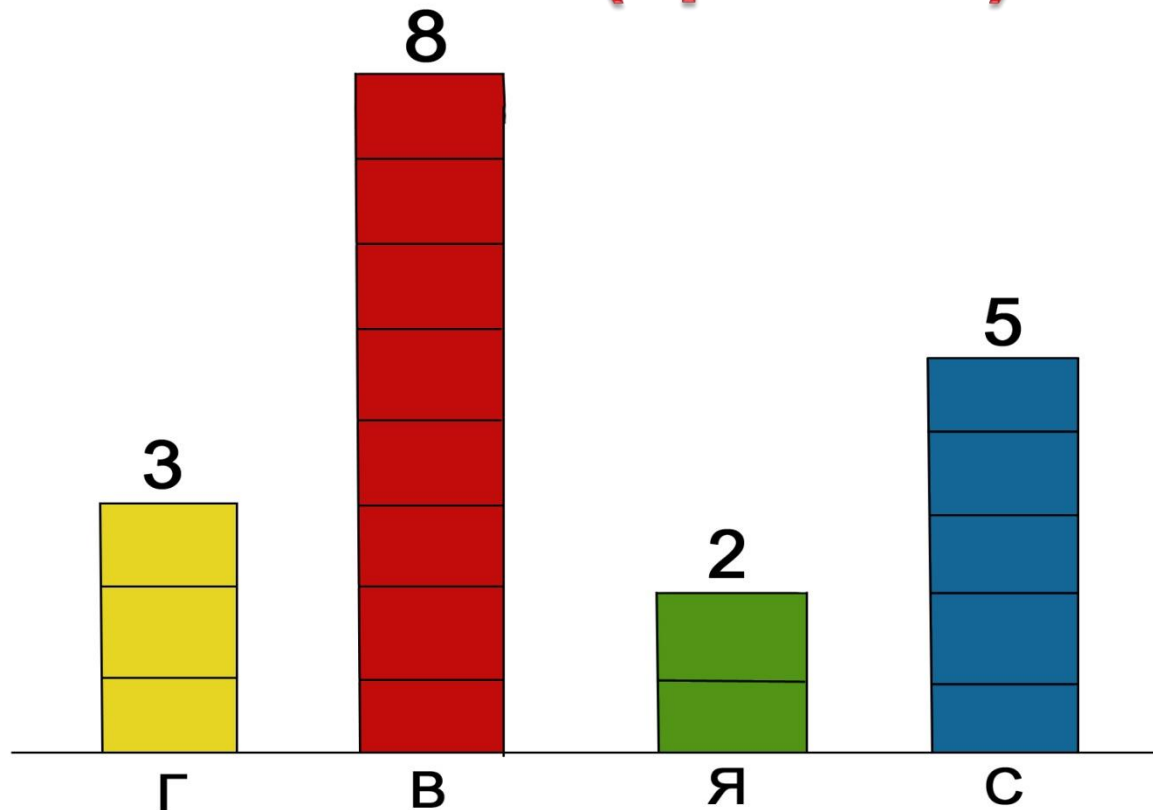
Диаграмма-(изображение, рисунок, чертеж)-графическое представление данных линейными отрезками или геометрическими фигурами.

Состав класса



Состав фруктового сада

Учебник с.59(правило)



На какие вопросы вы можете ответить с помощью этой диаграммы?
(устно).

Алгоритм рисования диаграммы

(запомни)

1. Прочтите текст задачи.
2. Дайте название диаграмме.
3. Выберите масштаб.
4. Изобразите диаграмму. Сделайте надписи.

Выполни №1 с.59(учебник)

Напиши, каких зверей больше, каких- меньше, на сколько больше лисиц, чем медвежат.





Физкультминутка

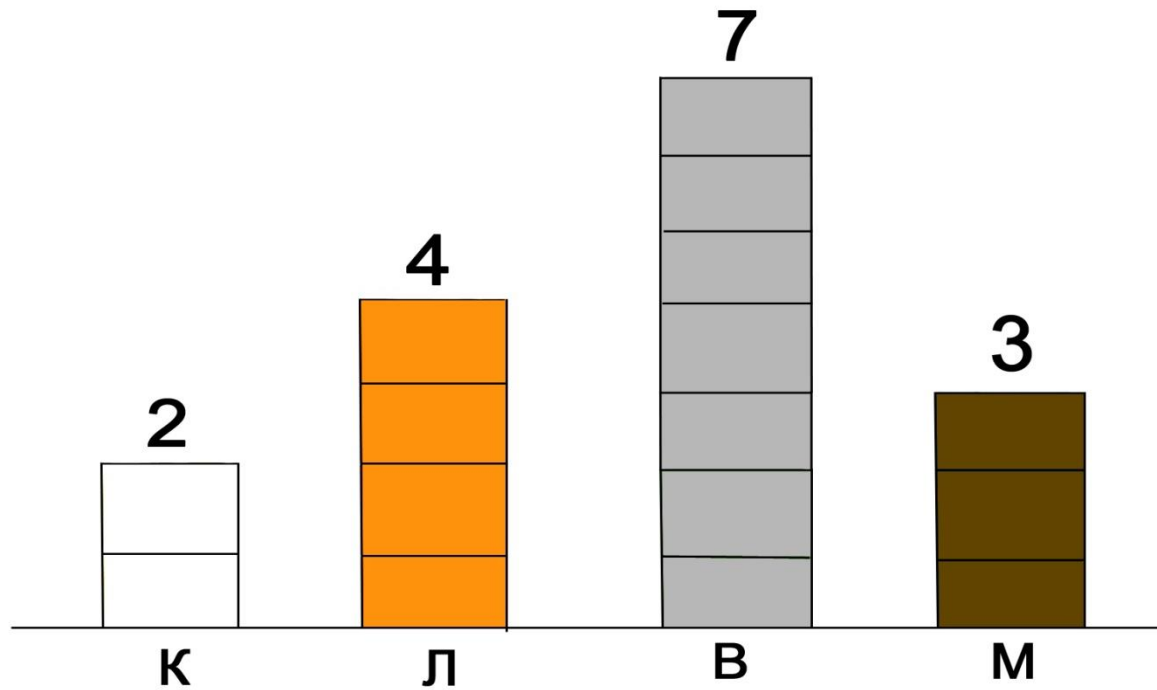


13.04.2020

Звери, играющие на площадке №1(уч.)



Звери, играющие на площадке



Закрепи:

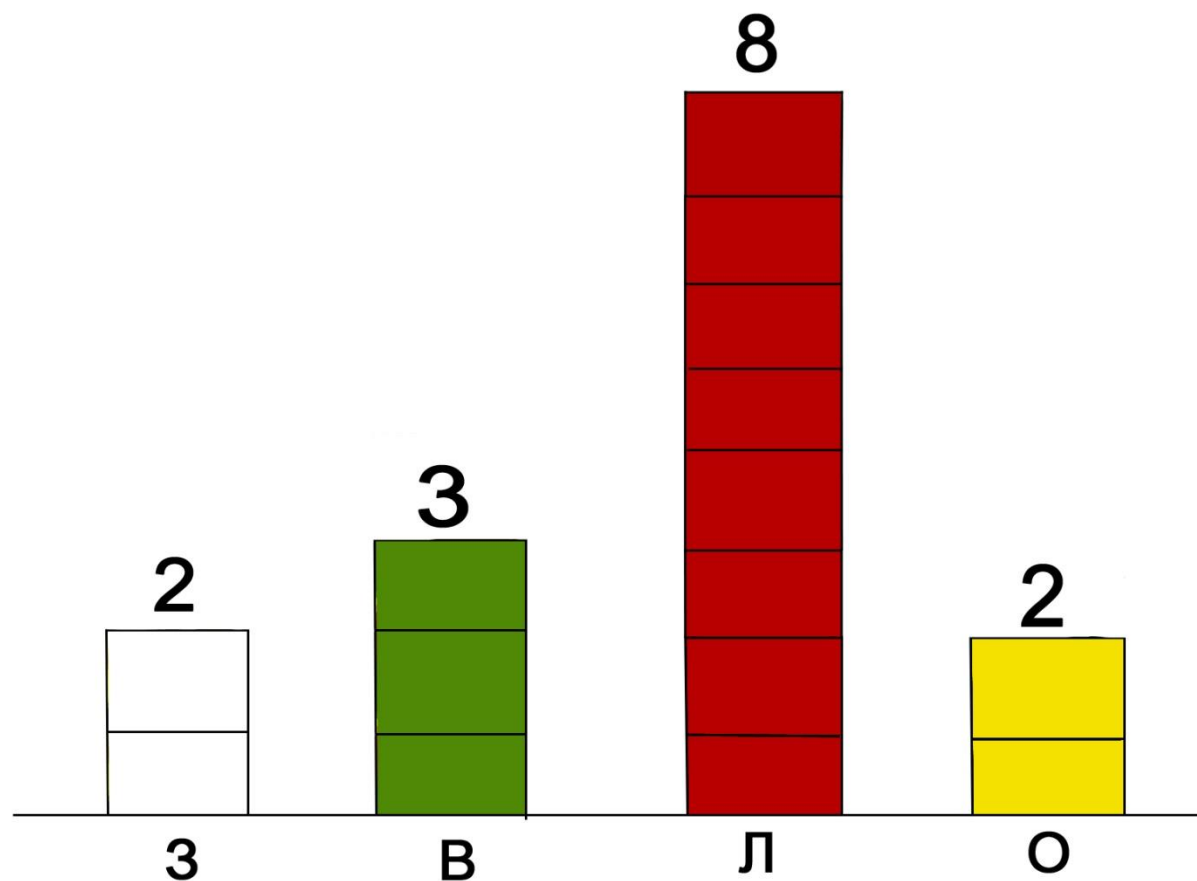
Любимое время года

В нашем классе зиму назвали любимым временем года 2 человека, весну – 3 человека, лето – 8 человек, осень – 2.

Нарисуй диаграмму к задаче, составь вопросы.



Любимое время года



МОЛОДЦЫ!

